

# Travail géographie 3tges1

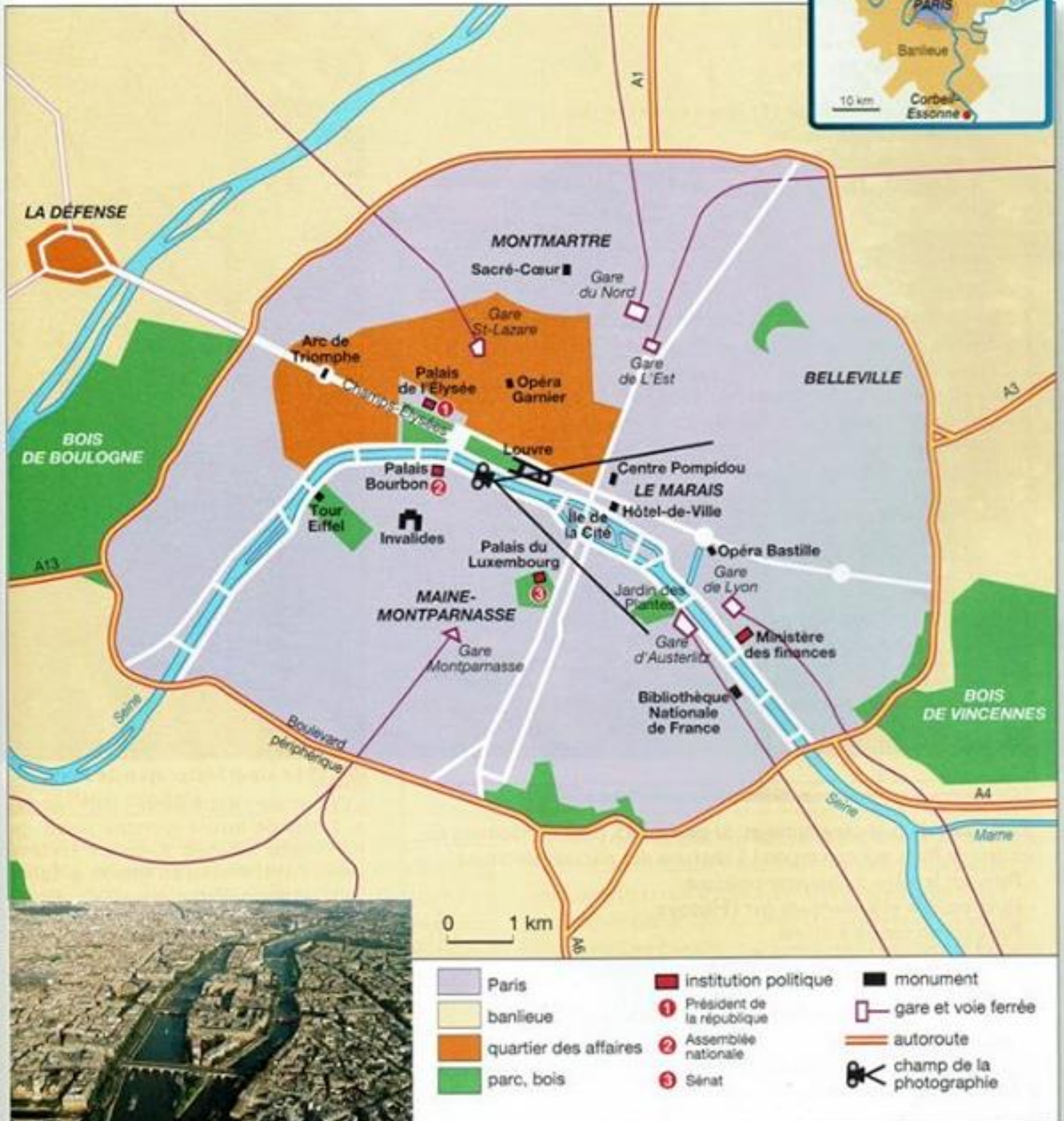
Consignes :

- Observe et lis les documents
- Réponds à chacune des questions posées

Le travail n'est pas à me renvoyer, vous recevrez le correctif mercredi 29-04.

Bon travail !

## Paris (France)



# Paris, métropole d'Europe

## ◆ La ville de Paris

- Pourquoi dit-on que Paris est marquée par l'Histoire ?
- Quelles sont les fonctions de cette grande métropole ?
- Quels sont les atouts et les inconvénients de la vie à Paris ?

### V O C A B U L A I R E

**Une agglomération** : l'espace formé par une ville et ses banlieues.

**Une métropole** : une des plus grandes agglomérations d'un pays.

### ACTIVITÉ

#### Document 1

1. En vous servant du plan p. 265, dites vers quelle direction est orientée la photographie. Quels sont les noms du fleuve et de l'île au premier plan ?
2. Au Moyen Âge, où les rois de France se sont-ils fait construire leur premier palais ? Quels étaient les avantages de ce site ?
3. Reproduisez le tableau et classez-y les monuments du paysage selon l'époque de construction :

Monuments antérieurs (avant le) au XX <sup>e</sup> siècle	Monuments du XX <sup>e</sup> siècle

4. Recopiez le tableau suivant et classez-y les monuments du paysage selon leur **fonction** (leur rôle) :

Fonction religieuse	Fonction culturelle et éducative	Fonction politique et administrative <sup>1</sup>	Fonction économique (commerce)

1. Qui concerne le gouvernement ou l'administration de la ville ou du pays.

5. À l'aide de la photographie et du plan p. 265, citez un bâtiment ou un lieu de Paris qui correspond à chacune des phrases suivantes :
  - Paris est le siège du pouvoir politique.
  - Paris est une ville marquée par l'Histoire.
  - Paris est un centre culturel.
  - Paris est un grand centre d'affaires.

#### Document 2

6. Paris est une capitale dans trois domaines. Quels sont-ils ?


#### Document 3

7. Quelles sont les catégories de la population qui ont fui Paris pour habiter en banlieue ? Pourquoi ont-elles fui Paris ?



#### 1 Le cœur historique de Paris

1. Cathédrale Notre-Dame (XII<sup>e</sup> siècle)
2. Palais de Justice (premier palais du roi devenu tribunal)
3. Louvre (second palais du roi devenu un musée)
4. Église Saint-Germain-l'Auxerrois (XV<sup>e</sup> siècle)
5. Pont-Neuf (XVII<sup>e</sup> siècle)
6. Samaritaine (grand magasin depuis le XIX<sup>e</sup> siècle)
7. Hôtel de Ville (mairie de Paris, XIX<sup>e</sup> siècle)
8. Centre Georges Pompidou (bibliothèque et musée, 1975)
9. Université de Jussieu (années 1960)
10. La Bibliothèque François Mitterrand (2001)
11. Place des Vosges (XVII<sup>e</sup> siècle)
12. Palais de l'Institut (siège de l'Académie française, XVII<sup>e</sup> siècle)



## 2 Paris, capitale

Paris est la capitale politique de la France. C'est là que siègent le Président de la République et le gouvernement. Paris est aussi la capitale économique : elle concentre la plupart des directions des grandes entreprises, des banques françaises dans les quartiers de l'Ouest parisien et à la Défense et accueille de nombreuses activités, surtout commerciales. Avec ses monuments et ses nombreux musées, c'est aussi la première ville touristique mondiale.

## 3 La fuite vers la banlieue

« François et Anaïk, qui étaient tous les deux Parisiens, avaient vécu depuis des années la lente transformation de leur quartier ; elle à Montparnasse<sup>1</sup>, lui à Saint-Paul<sup>1</sup>, ils avaient vu partir tout un peuple d'artisans et d'employés. Ils avaient vu disparaître, chassés par la hausse des loyers et la vente, les personnes modestes, les vieux, les jeunes couples, et donc les enfants. Pour où ? Pour la périphérie. Pour les banlieues. »

D'après F. Maspéro, *Les Passagers du Roissy-Express*,  
Le Seuil, 1992.

1. Quartiers de Paris.



1. Ce quartier est-il récent ou ancien ?

.....

2. Quelle catégorie de population vit dans ce quartier ?

.....

3. Qu'y a-t-il au rez-de-chaussée de ces immeubles ?

.....

4. Quels sont les deux types d'habitat ?

1 .....  
2 .....

5. Quelles catégories de population vivent dans le quartier 2 ?

.....

6. Qu'est-ce qui distingue cet habitat de celui de la photographie B ?

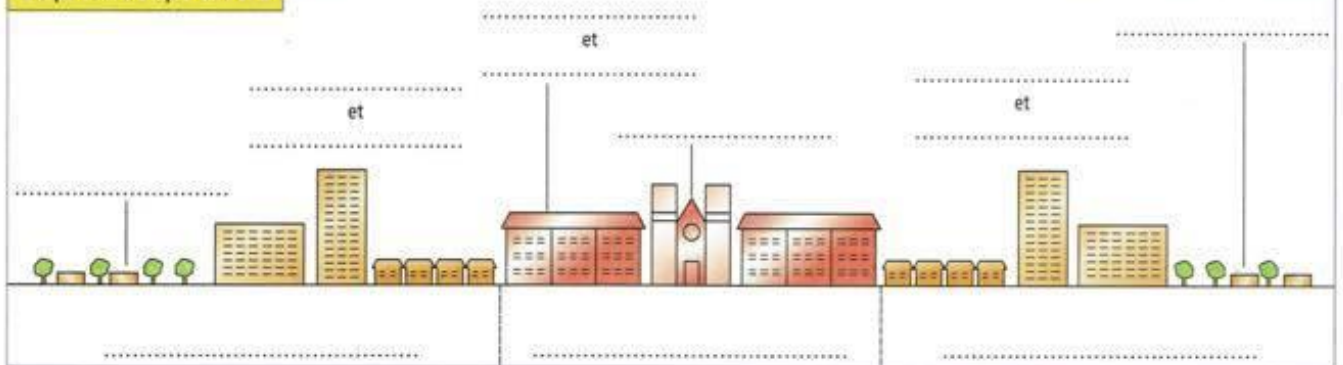
.....

7. Que recherchent les citadins en s'installant dans ce lotissement ?

.....



Coupe schématique de Paris



8. Sur la coupe schématique de Paris, placez les mots : pavillons et grands ensembles • quartier résidentiel et d'affaires • cœur historique • lotissement.

9. Placez à côté des mots la lettre des photographies qui leur correspondent.

10. Placez sous la coupe les mots : ville • banlieue.